




ΑΠΟΔΕΣΜΕΥΜΕΝΟ ΥΛΙΚΟ ΔΟΚΙΜΙΑ ΜΑΘΗΜΑΤΙΚΩΝ Γ' ΤΑΞΗΣ

Γεωμετρίας


1. Να βάλεις σε κύκλο τη σωστή απάντηση.

Ποιο πρέπει να είναι το επόμενο σχήμα για να συνεχιστεί το μοτίβο;



- (α)  (β)  (γ)  (δ) 

2. Να χρωματίσεις ένα ορθογώνιο στο πιο κάτω σχέδιο.



3. Να βάλεις σε κύκλο τη σωστή απάντηση.

Ποιο είναι το πιο κάτω στερεό σχήμα;




- (α) κύβος (β) πυραμίδα (γ) κύλινδρος (δ) ορθογώνιο παραλληλεπίπεδο

4. Να βάλεις σε κύκλο τη σωστή απάντηση.

Με ποιο σχήμα μοιάζει η μπαταρία της εικόνας;

- α) κύλινδρος
- β) ορθογώνιο παραλληλεπίπεδο
- γ) κύβος
- δ) σφαίρα



5. Να βρεις το μοτίβο.

Να βάλεις σε κύκλο το σχήμα που δείχνει την επόμενη χάντρα στο περιδέραιο της Δήμητρας.

