


ΑΠΟΔΕΣΜΕΥΜΕΝΟ ΥΛΙΚΟ ΔΟΚΙΜΙΑ ΜΑΘΗΜΑΤΙΚΩΝ Γ' ΤΑΞΗΣ

Μέτρηση

1. Να βρεις την απάντηση.

Πόσα εκατοστόμετρα (cm) είναι το μήκος του μολυβιού; Χρησιμοποίησε τη ρίγα που δίνεται πιο κάτω.



Απάντηση:

cm

2. Να βάλεις σε κύκλο τη σωστή απάντηση.

Τα γενέθλια του Αλέξη ξεκινούν στις 7:15. Ποιο ρολόι δείχνει τη σωστή ώρα;



(α)



(β)



(γ)



(δ)

3. Με τη βοήθεια του ημερολογίου να απαντήσεις στην ερώτηση.

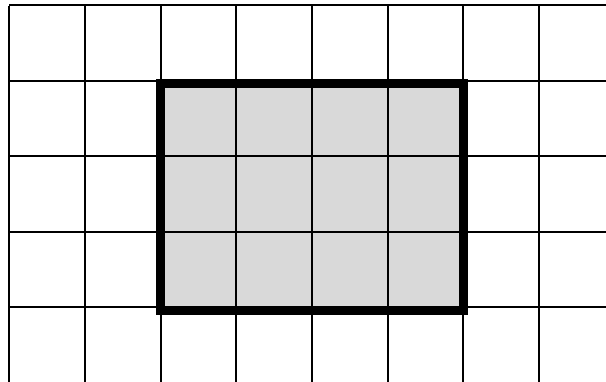
ΙΟΥΛΙΟΣ 2012						
Δευτέρα	Τρίτη	Τετάρτη	Πέμπτη	Παρασκευή	Σάββατο	Κυριακή
						1
2	3	4	5	6	7	8
9	10	11	12	13	14	15
16	17	18	19	20	21	22
23	24	25	26	27	28	29
30	31					

Πόσες Τετάρτες είχε ο Ιούλιος του 2012;

Απάντηση:


4. Να βάλεις σε κύκλο τη σωστή απάντηση.

Πόση είναι η **περίμετρος** του σχήματος με γκριζο χρώμα;



- (α) 14 cm (β) 12 cm (γ) 11 cm (δ) 40 cm

5. Να βρεις το εμβαδόν του σχήματος με γκριζο χρώμα.



Απάντηση:

cm²

6. Να βρεις την απάντηση.

Πόσα χρήματα έχει συνολικά στο πορτοφόλι της η Γεωργία;



Απάντηση:

ευρώ

7. Να βάλεις σε κύκλο τη σωστή απάντηση.

- I. Ένας κουβάς νερού **χωράει** περίπου: α) 10 L β) 10 m γ) 10 kg
- II. Ένα φύλλο δέντρου **ζυγίζει** περίπου: α) 2 L β) 2 cm γ) 2 g
- III. Το **ύψος** ενός θρανίου είναι περίπου: α) 1 m β) 1 kg γ) 1 L