

ΕΡΓΑ ΑΛΓΕΒΡΑΣ

1. Να γράψεις τους αριθμούς που λείπουν από το κάθε μοτίβο.

275, 250, 225, 200, _____, _____

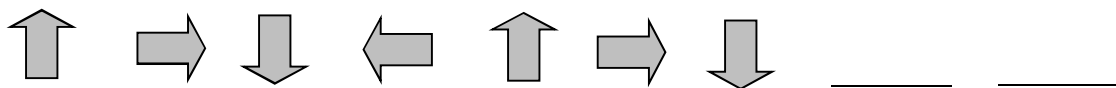
0, 90, 180, 270, _____, _____

2. Να γράψεις τους αριθμούς που λείπουν από το κάθε μοτίβο.

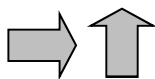
989, 982, 875, 868, _____, _____

233, 333, 433, 533, _____, _____

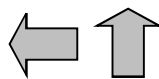
3. Να βάλεις σε κύκλο τα δύο σχήματα που ακολουθούν.



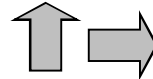
α)



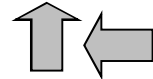
β)



γ)



δ)



4. Να βάλεις σε κύκλο τα δύο σχήματα που ακολουθούν.



α)



β)



γ)



δ)



4. Να συμπληρώσεις τα ποσά που λείπουν από τον πίνακα.

Ο Θωμάς βάζει το ίδιο ποσό χρημάτων στον κουμπαρά του κάθε βδομάδα. Ο πιο κάτω πίνακας δείχνει τα χρήματα που έχει ο κουμπαράς του στο τέλος κάθε βδομάδας.

Εβδομάδα	Ποσό (€)
1	3,00
2	3,60
3	4,20
4	
5	